

平成30年度
聖ヨゼフ学園中学校入学試験問題
第1回〔社会〕

〔注意〕 解答はすべて解答用紙に書きなさい。

1 次の文を読んで、あとの問いに答えなさい。

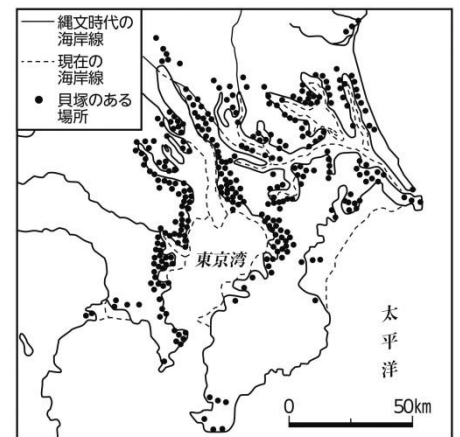
遺跡とは、過去の人間の活動の跡が残されている場所です。日本各地に見られる人々の生活の跡からは、古くから人が住みついた場所ほどのようなところなのか、また、そこでどのような暮らしをしていたのかが見えてきます。多くは、①食べ物を手に入れるのに適しているなど暮らしやすい場所に見られます。

問1 下線①について、縄文時代には、川などの水が近く、日あたりの良い丘のような高いところが住む場所として好まれ、海に近い集落では、貝塚がつくられました。右の地図は、貝塚の跡が見つかった場所を示したものです。あとの問いに答えなさい。

【1】次の文は、右の地図からわかることを示したものです。

() にあてはまることばを答えなさい。

現在の栃木県南部にも貝塚跡があり、このあたりでも当時は () だったことがわかる。



【2】次の文は、【1】からわかる日本のようすを示したものです。() にあてはまることばの組み合わせとして正しいものを下から選び、記号で答えなさい。

今よりも気候が (A)、海面が (B)。

- ア. A あたたかく — B 低かった イ. A 寒く — B 低かった
ウ. A あたたかく — B 高かった エ. A 寒く — B 高かった

【3】鶴見区でも、いくつもの貝塚が見つっています。この辺りの貝塚からは、海の魚の骨や貝がらの他、シカやイノシシ、イヌの骨、そして骨を加工して作った針など、さまざまなものが見つっています。このことから、どのような暮らしをしていたことがわかりますか。下から選び、記号で答えなさい。

- ア. 狩りをして動物をつかまえたり、海で魚や貝をとって食べていた。
イ. 動物を家畜として飼って、肉や乳を手に入れていた。
ウ. 動物を利用して農耕を行ない、米の他に麦もつくっていた。

天皇を中心に律令によって国を治めるしくみが整えられると、住む場所の決まり方にも変化が見られてきます。自分にとって暮らしやすい場所に住むというよりも、②国によって計画的につくられた水田や村が生活の場となりました。貴族や、その後の武士が中心となった時代にも、このようなあり方は続きました。

しかし中には、③人の少ないところや険しい山間部、谷間などの不便で生活しにくいような場所や、④都から遠く離れた島、さらに島の中でもいっそう険しく他の集落と交流しにくい場所に住む人たちもいました。わざわざそんなところに住んだのは、他の人に見つからないように隠れたり、⑤できるだけ他の人と関わらないようにしたかったと考えられます。

問2 下線②について、右の写真は、このようすが今に伝わる地域のものです。このころの人びとの暮らしのようすを説明した文として正しいものを下から選び、記号で答えなさい。

- ア. わりあてられた土地を耕し、稲や地方の特産物を納めた。
- イ. 綿花や茶などの商品作物を栽培して、お金を手に入れた。
- ウ. 地主から土地を借りて耕し、小作料を納めた。

(国土地理院の航空写真)

<http://mapps.gsi.go.jp/maplibSearch.do?specificationId=947911> より



問3 下線③について、栃木県日光市の湯西川に残る、鶏を飼わない、たき火をしないなどの風習は、目立たずに生活するためのものです。湯西川は、平氏一族やこれに従っていた者たちが隠れ住んだとされる地です。彼らが身を隠さなければならなかった背景について、次の文の()にあてはまるものを下から選び、それぞれ記号で答えなさい。

朝廷や貴族たちの勢力争いに武士としてかかわり力を伸ばした平清盛は、(A)。しかし、平氏の政治に対して不満を持つ貴族や武士がしだいに増えていき、平氏は(B)。

- ア. 征夷大將軍に任命されて、京都の町に新しく幕府を開いた
- イ. 武士で最初の太政大臣となり、一族で朝廷の重要な地位を独占した
- ウ. 政権を天皇に返し、朝廷から与えられた地位も返した
- エ. 源氏や源氏に従う武士と各地で戦い、壇ノ浦で敗れた

問4 下線④について、新潟県の佐渡島には、かつて罪をとわれた人が流されたことがあり、世阿弥もその一人です。世阿弥が大成した伝統芸能は、現在ではユネスコの無形文化遺産にも登録されていますが、佐渡島はこれがさかんな島です。この伝統芸能とは何ですか。答えなさい。

問5 下線⑤について、長崎県の西の海に面した地域や周辺の島々など、現在はキリスト教の教会群で有名な地域も、山に囲まれ急な斜面ばかりで平地が少なく、水田や畑を切り拓くことも難しい場所です。それにも関わらず、この地には江戸時代に農民たちが村をつくって生活を営みました。その理由を、「幕府が」の書き出しに続けて答えなさい。

明治時代になると、⑥人々の暮らす場所や生活は、政府による改革や、産業の発達が進むなかで変わっていきました。農民の中には土地を売って工場などで働く者もでて、都市の人口が増えていきました。そして、大正時代に入って第一次世界大戦がおこると、この動きはあっというまに進みました。また、⑦さまざまな理由から、日本から海外へ移り住む人々も見られました。

問6 下線⑥について、工場で働こうと思った人が、その近くに住めるようになった背景には、政府の改革があります。これを説明した文として正しいものを下から選び、記号で答えなさい。

- ア. 年貢にかわって、土地の価格に応じた地租という税金を納めさせることにした。
- イ. 武士の軍隊にかえて、20歳になった男子すべてに兵役の義務を負わせた。
- ウ. 身分制度を改めて、職業や住む場所を自分で決められるようになった。

問7 下線⑦について、昭和に入ったころ、世界中が不景気になり、日本でも人々の生活はたいへん苦しいものとなりました。こうした中、農業などを営むため、多くの日本人が広大な土地と豊かな資源のある満州へと移り住みました。次の3つの資料は、このことに関係するものです。資料からわかることを示した下の文の（ ）にあてはまることばを答えなさい。

【満蒙開拓団送出数上位】

都道府県	開拓団
長野	37,859
山形	17,177
熊本	12,680
福島	12,673
新潟	12,651

(満蒙開拓平和記念館発行資料より作成)

【1928年の主な県の蚕種製造量】

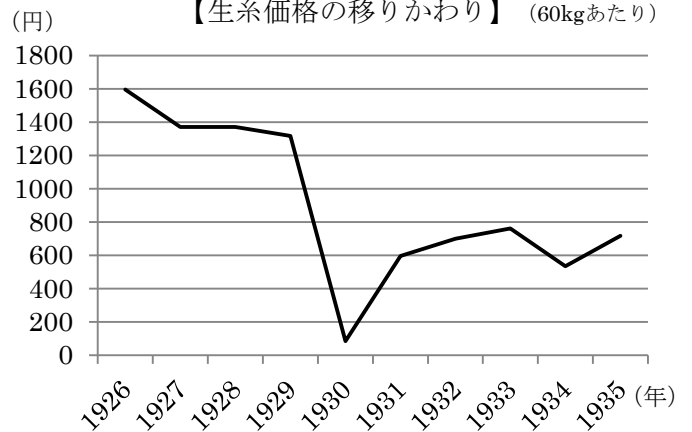
(単位：蛾)

長野	165,370,886
愛知	71,862,098
福島	47,363,449
静岡	44,913,963
群馬	44,683,092
埼玉	37,294,286

(長野県地方自治研究センター編『信州自治研』第202号)

新津新生著『蚕糸王国長野県はこうしてつくられた』より作成)

【生糸価格の移りかわり】 (60kgあたり)



(「愛媛県生涯学習センターHP」より作成)

満州へ移り住んだ人は、(A) 県の人が一番多い。(A) 県は、生糸の原料である蚕を育てる農家が最も多い県である。この不景気によって生糸の価格が (B) ため、収入が減って生活が苦しくなった農家が多かったのである。

第二次世界大戦後には、急速に経済が発展するにつれて、人々のくらしも変化しました。その中で、⑧大都市や地方では多くの人が居住地を移す動きが見られ、これは現在の地方の抱える課題の一要因ともなりました。

現在、こうした課題の解決に地方公共団体が取り組む一方、近年では若者を中心に生活や働き方の多様化が進み、⑨大都市から地方へ移住する人の流れも生まれています。

問 8 下線⑧について、次の資料は 1955～72 年の各都道府県の転入超過率* (%**) を示したものです。▲は転出した割合が多かったことを示しています。あとの問いに答えなさい。

*転入超過率 … 他の都道府県から居住地を移してきた人の割合
 **% (パーミル) … 千分率のこと 1000 分の 1 を 1 とする

北海道	▲5.3	福井	▲7.8	長野	▲8.6	広島	1.0	佐賀	▲17.9
宮城	▲5.7	東京	9.1	愛知	11.0	鳥取	▲9.7	長崎	▲16.2
青森	▲8.8	埼玉	22.6	岐阜	▲3.0	島根	▲15.1	熊本	▲13.4
岩手	▲11.8	千葉	16.7	三重	▲5.3	岡山	▲4.5	大分	▲11.9
秋田	▲14.2	神奈川	23.7	大阪	16.8	山口	▲9.2	宮崎	▲12.9
山形	▲13.1	茨城	▲4.9	滋賀	▲2.8	徳島	▲12.8	鹿児島	▲17.9
福島	▲13.1	栃木	▲6.3	京都	1.2	香川	▲6.6	沖縄	0.0
新潟	▲11.3	群馬	▲6.3	兵庫	5.2	愛媛	▲11.6		
富山	▲7.0	山梨	▲10.9	奈良	3.6	高知	▲10.5		
石川	▲4.5	静岡	▲0.2	和歌山	▲4.8	福岡	▲4.9		

(第一生命経済研レポート 2006 年 2 月 須藤一紀著『よくわかる日本の人口』より作成)

- 【1】この表の変化のようすを説明した文として正しいものを下から選び、記号で答えなさい。
- ア. 都会の小学生は、空襲を避けるため、親もとを離れ遠くの農村などに集団で疎開した。
 イ. 満州や戦地から戻ってきた人たちが日本の人口はふくれあがり、失業者も急増した。
 ウ. 都会の工場に若い人々が集団で就職するなど、多くの人の働きが経済発展を支えた。
- 【2】表の変化を背景とする現在の地方の課題を説明した文として、正しいものを下から選び、記号で答えなさい。
- ア. 都市部および地方ともに人口が増えたため、住む場所を増やすために森林が伐採され、環境の悪化が進んでいる。
 イ. 地方の人口が減り、少子化が進み、人口の半分を 65 歳以上の高齢者が占めるようになった集落が増えている。
 ウ. 地方の人口が増え、産業が限られている中で仕事や収入を得ることができず、空き家に住む若者が増えている。

問9 下線⑨について、次の2つの新聞記事は、徳島県神山町^{かみやまちょう}についてのものです。ここからわかる、これからの居住地と産業について説明した文として正しいものを下から選び、記号で答えなさい。

…(略)…徳島市中心部から車で45分ほど。山に囲まれた町の人口は約5300、高齢化率は48%に達している。スタチの生産量こそ日本一だが、かつて町を支えた林業は見る影もない。

それなのに町は2008年度からの8年間で91世帯、161人の移住者を^{むか}迎え入れた。さらに町を有名にしたのは、東京などのIT企業^{きぎょう}が次々とサテライトオフィス^{かま}*を構えたり、本社を設けたりしていることだ。その数は11年以降、16社にのぼり、^{こよう}雇用も生まれている。…(略)…

*サテライトオフィス … 本部から離れたところに設置されたオフィス
(2016年10月3日 朝日新聞夕刊 一部^{ぼっすい}抜粋・^{かいへん}改編)

…(略)…神山町に最初にサテライトオフィスを構えたIT企業「Sansan(サンサン)」（東京都渋谷区）の社長、寺田親弘^{ちかひろ}は考えた。自然豊かな場所でエンジニアにクリエイティブな仕事をしてもらいたい。光ファイバー^{もう}網があつてインターネットさえ使えれば、ITの仕事はどこだってできる。聞くと古民家が数万円で借りられてコストもかからない。…(略)…「この町で新しい働き方を実験してみたいんです」と訴えた。…(略)…

(2016年10月31日 朝日新聞夕刊 一部^{ぼっすい}抜粋・^{かいへん}改編)

- ア. 自然豊かな場所には光ファイバー網があるため移住者が多く、とくに古民家を貸し借りするITの仕事がさかんになってきている。
- イ. 環境さえ整えばどこでもできるITなどの仕事が増え、必ずしも住んでいる場所によって仕事が決まるということは無くなってきている。
- ウ. インターネットが使える場所は、古民家を安く借りることができるので仕事をしやすく、多くの人が移住するようになってきている。

2 次の文を読んで、あとの問いに答えなさい。

小学6年生の望^{のぞみ}さんは、夏休みに家族で訪れた長野県で、①「塩の道」と呼ばれる道があることを知りました。「塩の道」とは、かつて沿岸部から内陸部へ塩を運ぶために使われた道のことをいいます。望さんは、この「塩の道」をきっかけに塩に興味を持ちました。

望さんは、塩は海水から作られていると思い、②島国である日本ではきっと盛んに塩作りが行われているにちがいないと考え、まずは日本における塩作りについて調べてみることにしました。

問1 下線①について、日本国内にはこのように呼ばれる道が各地に残っています。望さんが旅先で知った「塩の道」は、松本市と糸魚川市^{いとがわ}を結ぶ道でした。糸魚川市のある都道府県をあらわすものを下から選び、記号で答えなさい。ただし、一部の島は除いており、縮尺も異なります。

ア.



イ.



ウ.



エ.



問2 下線②について、次の文は日本列島をとりまく海のようなすをあらわしたものです。()にあてはまることばの組み合わせとして正しいものを下から選び、記号で答えなさい。

日本の近海には、日本海流と対馬海流などの(A)と、千島海流などの(B)が流れている。特に日本海流と千島海流がぶつかる(C)側では、異なる性質の海水がぶつかり合い、海底の栄養分がまき上げられてプランクトンが集まるため、世界有数の漁場となっている。

ア. A=寒流 B=暖流 C=日本海

イ. A=寒流 B=暖流 C=太平洋

ウ. A=暖流 B=寒流 C=日本海

エ. A=暖流 B=寒流 C=太平洋

望さんが塩について調べていることを知ったおじいさんと従兄の信くんから、望さんあてに手紙が届きました。

(おじいさんからの手紙)

昔、おじいちゃんの住むところでも塩は作られていました。ここには、③十分な平地が少なく、おまけに古くから「やませ」という風による冷害も多いため、主食のお米や雑穀が不足していました。だから、昔の人々は、それらを得るために塩を作って、内陸に住む人たちとお米を交換していたのです。また、このあたりは鉄が豊富に採れたため、塩を煮詰める時に使う釜を作ることが容易だったことも、塩作りには良い条件となったようです。

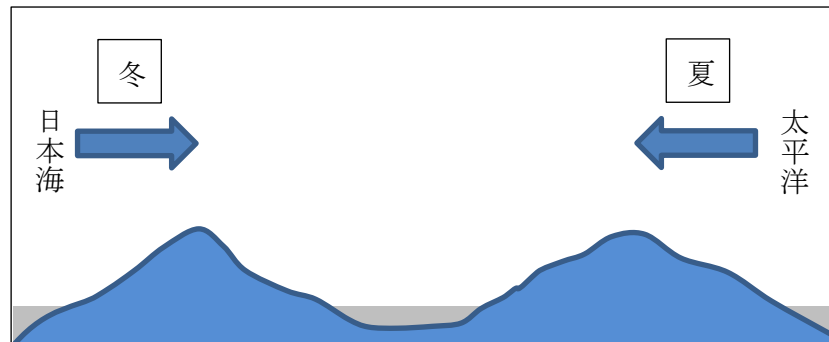
(信くんからの手紙)

僕の住むところは海に面していて、塩を作るための塩田がたくさん広がっていた地域です。この海は、陸地と陸地にはさまれて東西 450 kmにも広がり、古くから海上交通路としても使われてきました。この海域は潮の満ち引きの差が大きく、この特徴を利用してわざわざ人が海水を運ばなくても、海水が塩田に入る仕組みをつくることができたために、塩作りが発達したと言われていました。また、④一年を通じて晴天が多く降水量が少ない、というこの地域の気候が塩作りに適していたこともあるようです。

望ちゃん、塩のことを調べているなら、⑤日本の塩の自給率や使われ方について調べるとおもしろいと思います。きっと新しい発見があります。

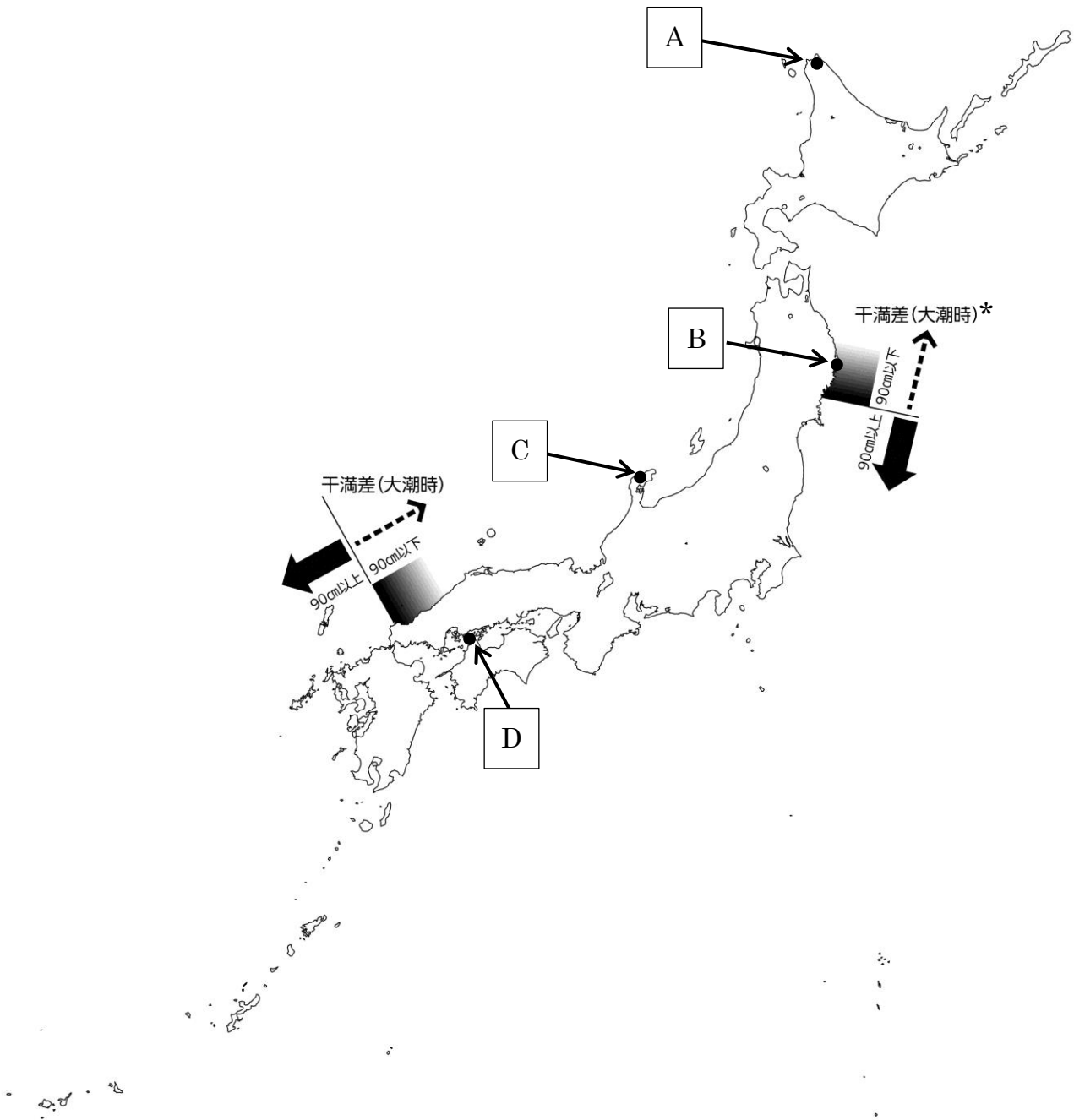
問3 下線③について、おじいさんが住むところで平地が少ないのは、この地域におけるある海岸地形が作り出す特徴です。起伏の多い山地が、海に沈むことによって作られる複雑な海岸線を何といいますか。答えなさい。

問4 下線④について、このような気候を生みだしている要素の一つに風があります。次の図は信くんの住む地域を断面であらわしたもので、矢印は風の吹く方向を示しています。この地域の気候をもたらす風の特徴として正しいものを下から選び、記号で答えなさい。



- ア. 夏は太平洋側、冬は日本海側から吹く季節風は山地にさえぎられ、そこを越えた大気は湿潤する。
- イ. 夏は日本海側、冬は太平洋側から吹く季節風は山地にさえぎられ、そこを越えた大気は湿潤する。
- ウ. 夏は太平洋側、冬は日本海側から吹く季節風は山地にさえぎられ、そこを越えた大気は乾燥する。
- エ. 夏は日本海側、冬は太平洋側から吹く季節風は山地にさえぎられ、そこを越えた大気は乾燥する。

問5 おじいさんと信くんが住んでいるところを、それぞれ下の地図から選び、記号で答えなさい。



*干満差 … 潮の満ち引きによって起こる海水面の高さの差

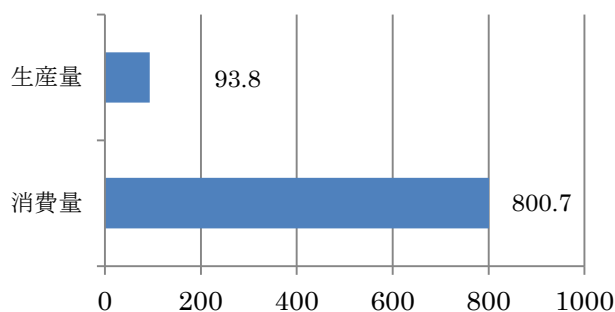
(「たばこと塩の博物館HP」より作成)

<https://www.jti.co.jp/Culture/museum/collection/salt/s11/index.html>

問6 下線⑤について、望さんはさっそく日本における塩の自給率や使われ方について調べることにしました。次の3つの資料は、望さんが調べる際に使用したものです。これらの資料から読み取れる正しい内容を下から2つ選び、記号で答えなさい。

【日本国内における塩の生産量と消費量(平成27年度)】

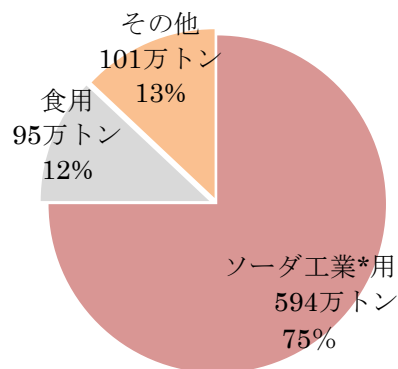
(単位: 万トン)



(「公益財団法人塩事業センター 塩百科HP」より作成)

<http://www.shiojigyo.com/siohyakka/number/sufficiency.html>

【日本の塩の用途別消費量(平成28年度)】



*ソーダ工業 … 塩を塩素とナトリウムに分解して製品に作り替える工業

(「公益財団法人塩事業センター 塩百科HP」より)

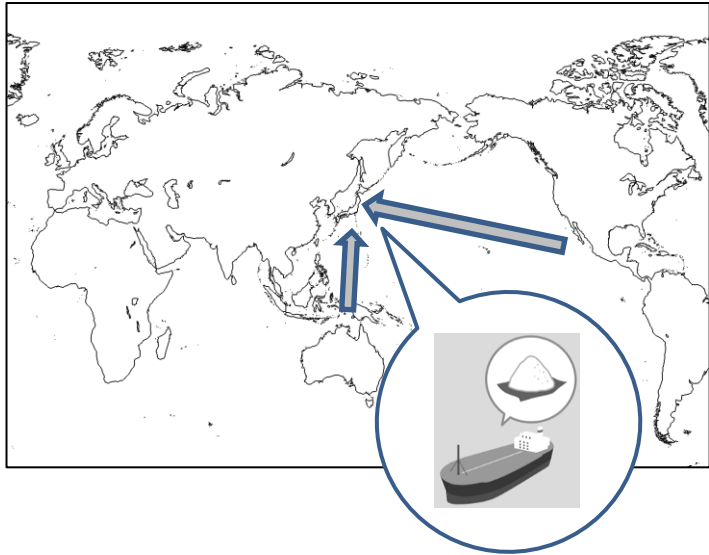
<http://www.shiojigyo.com/siohyakka/number/consumption.html>

【食用以外の塩の用途例】

分類	用途	説明
ソーダ工業用	塩化ビニル	ラップフィルムや合成皮革などの塩化ビニル製品の原料として使う。
	革製品の加工	動物の皮を、安定した素材の革に変化させるさいに使う。
その他	融雪剤	濃い塩水は凍らないため、冬、道路にまいて路面の凍結を防ぐために使う。
	医療用食塩水	麻酔薬や注射剤の濃度を薄めたり、傷口を洗浄する時に使う。

- ア. 国内消費量のうち、国内生産量が占める割合は約12%と自給率は低く、残りは輸入に頼っていると考えられる。
- イ. 国内生産量は、国内消費量をはるかに上回っていることから自給率は高く、余った塩を使って食用以外の製品が作られている。
- ウ. 国内消費量のうち、約75%が食用以外のものに利用されており、身近なところで私たちの生活を支えていると言える。
- エ. 国内生産量は、医療用食塩水を含む食用として使われている量とほぼ同じであり、国内消費量全体の約12%である。
- オ. 国内消費量のうち、塩化ビニルや融雪剤など、食用以外で私たちの生活を支えているものが約88%を占めている。

問7 望さんは、塩についての新しい発見をクラスで発表しようと思い、次のような書き出しの記事を作りました。私たちの生活の変化に応じて、「塩の道」も大きく変化していることを感じた望さんは、どのようなタイトルを付けると考えますか。タイトル中の空欄に入る文をこれまでの学びをふまえて答えなさい。



発見！

塩の道！

塩についての記事

(「公益財団法人塩事業センター 塩百科HP」より画像を一部引用して作成)
<http://www.shiojigyo.com/siohyakka/number/sufficiency.html>

3 次の文を読んで、あとの問いに答えなさい。

現代の日本においては、政治のあり方が、その社会のメンバー自身の手によって決められることが何よりも大切だと考えられています。それを民主主義と呼びます。

では、民主主義とはそのような政治のやり方のことだけを指すのでしょうか。そもそも①私たちは、一人ひとりがかけがえのない存在であり、生まれながらにして自由で平等な権利を持っているという前提のもとで社会が成り立っています。さらに社会には大勢の人々がいるから、自分自身を人間として尊重するものは、同じように、全ての他人を人間として尊重する必要があります。自分の権利を主張する人は、他人の権利も重んじなければなりません。このような□□□□ことこそが、民主主義のもっとも大切な精神と言えるでしょう。

本当に民主主義に基づく社会が実現されるためには、このような心構えに加えて、②私たちが自分の判断で、正しいものと正しくないものを見分けることができるようにならなければいけません。すべての人が、みんなの努力でお互いの幸福をもたらすことを目標に、③一人ひとりが自分で考え、自分たちの意志で物事を決めて行く、つまり、民主主義は政治のやり方だけにとどまらず、家庭や学校にもあり、さらには④社会生活や、⑤国際社会にもあると言えるのです。

私たちは、長い歴史の中でこのような民主主義のかたちを築いてきました。しかし、どんなに民主主義のかたちが整っていても、⑥そこに生きる私たちが本当にその精神を理解し、行動をしなければ、機能しているとは言えなくなってしまいます。民主主義とは、何か一つの完成されたかたちがあるわけではありません。だからこそ私たち自身の手で、常に発展させていかなければならないのです。

問1 下線①について、このような前提は日本国憲法の三大原則のどれにあたりますか。答えなさい。

問2 □□□□にあてはまる文を、本文中から15字で抜き出して答えなさい。

問3 下線②について、そのために必要な権利として正しいものを下から選び、記号で答えなさい。

ア. 私生活や個人情報^{かんじょう}を他人に知られない、干渉されない権利

イ. 国や地方公共団体が持つ情報を国民が自由に手に入れる権利

ウ. 知的な創造活動によって生み出された形のないものを、生み出した人が財産として所有する権利

エ. 人間が快適な生活を営むうえでの日照を受ける権利

問4 下線③について、次の2つの資料は、明治時代に制定された大日本帝国憲法をわかりやすくなおしたものと、日本国憲法の条文です。それらを比較した下の文の（ ）にあてはまる共通のことばを、憲法の条文から抜き出して答えなさい。

大日本帝国憲法
第1条 日本は、永久に続く一つの家系の天皇が治める。
第5条 天皇は、議会の意見を聞き、法律を定める権利を持つ。
第29条 日本臣民*は、法律の範囲内で、言論、集会、結社の自由を持つ。
*臣民 … 天皇・皇族以外の国民

日本国憲法
第1条 天皇は日本国の象徴であり…（中略）…この地位は、主権の存する日本国民の総意に基く。
第21条 集会、結社及び言論、出版その他一切の表現の自由はこれを保障する。

大日本帝国憲法では国の（ ）を持つのは天皇とされ、国民の権利は法律の範囲内で認められたが、日本国憲法では国民が（ ）を持つように変わった。

問5 下線④について、市町村には誰もが幸せに暮らせるように、政治を行うためのさまざまなしくみがあります。その一つに市議会がありますが、市議会の仕事として正しくないものを下から選び、記号で答えなさい。

- ア. 市の条例を制定、改正、廃止する。
- イ. 市の予算を決め、そのお金が正しく使われたかを確認する。
- ウ. 市の仕事が市民のために正しく行われているかを調べる。
- エ. 市議会の議員の投票によって、市長を選出する。

問6 下線⑤について、世界の国々が意見を交わす場として国際連合があります。国際連合について問いに答えなさい。

【1】国際連合が発足した経緯について説明した文として正しいものを下から選び、記号で答えなさい。

- ア. 第一次世界大戦後、世界平和を守るための初めての組織としてつくられた。
- イ. 第二次世界大戦後、地球温暖化を防止することを目的としてつくられた。
- ウ. 第二次世界大戦後、世界平和を守ることや国際協力を目的につくられた。
- エ. 冷戦期、先進国の技術を開発途上国へ伝えることを目的としてつくられた。

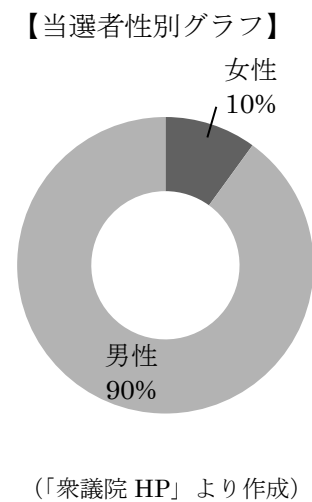
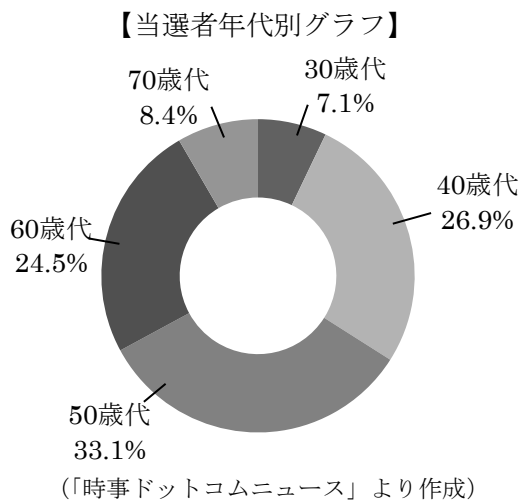
【2】国際連合総会^{そうかい}の決議について、次の資料を参考にして、下の文の（ ）にあてはまる数字やことばをそれぞれ答えなさい。

2017年12月21日、国際連合総会にて、アメリカがエルサレムをイスラエルの首都と認定^{にんてい}した問題に関して、認定を撤回^{てつかい}することをアメリカに求める決議案^{きぎあん}が採択された。
結果：賛成128 反対9 棄権^{きけん}35 投票不参加国21（加盟国193ヶ国）

国連総会においては、国の面積や人口に関わらず加盟国が（ A ）票の投票権を持つ。
決議は全加盟国の意見の一致^{いっち}によってではなく、（ B ）によって行われる。

問7 下線⑥について、国民が自分の意見を政治に反映させる場の一つとして選挙があります。選挙を通して、国民を代表して政治を担う人を選出します。その結果からは、民主主義に基づいた政治が実現しているのかという課題も見えてきます。選挙について、問いに答えなさい。

【1】下の資料は、昨年10月に行われた衆議院議員総選挙の結果、当選した衆議院議員に関するものです。資料から読み取れることとして正しいものを下から選び、記号で答えなさい。



- ア. 50歳代の議員が最も多く、そのうち女性議員は10%にとどまっている。
- イ. 50歳代以上の人が65%以上を占め、議員全体の9割は男性である。
- ウ. 70歳代の議員が最も少なく、かつ議員に女性議員はいない。
- エ. 40歳代以下の議員が半数おり、その9割は男性である。

【2】次の資料は衆議院議員総選挙の年代別投票率（％）を過去5回分まとめた表と、投票率の向上に向けた取り組みに関する写真です。これを見て、下の文の（ ）にあてはまる数字やことばをそれぞれ答えなさい。

	平成17年	平成21年	平成24年	平成26年	平成29年
10歳代					40.49
20歳代	46.2	49.45	37.89	32.58	33.85
30歳代	59.79	63.87	50.1	42.09	44.75
40歳代	71.94	72.63	59.38	49.98	53.52
50歳代	77.86	79.69	68.02	60.07	63.32
60歳代	83.08	84.15	74.93	68.28	72.04
70歳代以上	69.48	71.06	63.3	59.46	57.71
全体	67.51	69.28	59.32	52.66	56.74

（総務省「第44回～48回衆議院議員総選挙発表資料」をもとに作成）



（「天理大学HP」より）



（「ちちぶ博樹 大仙市議会議員公式HP」2016年7月1日より）

<http://www.komei.or.jp/km/daisen-chichibu-hiroki/author/vniu7947/page/52/>

<http://www.tenri-u.ac.jp/calendar/q3tncs00001hgtptj.html>

国民全体の投票率は 50%から 60%台である。投票しない理由*としては、選挙にあまり関心が持てなかったり、^{てきとう}適切な候補者がいないと考えたり、仕事があったということがあげられている。

年代別に投票率を比較すると、（ A ）歳代の投票率が最も低い。候補者は、投票してくれる国民の意見を聞いて、政策に掲げる傾向がある。国に税金を納め、年金という形で^{こうれいしや}高齢者の生活を支えている若い人たちに向けた政策ももちろんある。しかし、投票率の（ B ）い若い人よりも、優先的に投票率の（ C ）い高齢者への政策が増えているのが現状である。

若い人たちの投票率の向上のため、彼らが足を運びやすい大学やショッピングモールなどに（ D ）を設置するなど、投票しやすい環境を整える工夫がなされている。

*（公財）明るい選挙推進協会「第47回衆議院議員総選挙の実態」平成27年8月より
（^{じつたい}実態）