

2024年度  
聖ヨゼフ学園中学校入学試験問題  
第1回〔社会〕

〔注意〕 解答はすべて解答用紙に書きなさい。

1 「木」や「森林」に関する【Ⅰ】と【Ⅱ】の文を読んで、あとの問いに答えなさい。

【Ⅰ】

私たちが住む日本列島は、ほとんどの場所が樹木の育つ環境<sup>かんきょう</sup>にあり、①国土の約70%が森林におおわれています。さらにその②種類も豊富であるため、古くから人々は③木とつながりの深い生活を営んできました。それは④さまざまな遺跡<sup>いせき</sup>からもうかがい知ることができます。火を起こし、⑤木で建物を建て、暮らしに必要な器をつくるなど、現代まで続く木の文化を育んできました。

問1 下線①について、次の表は、日本と世界のいくつかの国の国土面積、森林面積、森林率\*を示したもので、          の文は、表から読み取れる日本の特徴<sup>とくちょう</sup>について説明しています。文中の < A > ~ < C > にあてはまることばの組み合わせとして正しいものを下のア~カの中から選び、記号で答えなさい。

\*森林率 … 陸地面積に対する森林面積の割合のこと。

国名	国土面積 (km <sup>2</sup> )	森林面積 (km <sup>2</sup> )	森林率 (%)
日本	377,915	249,950	66.1
ドイツ	357,022	114,190	31.9
インド	3,290,000	724,260	22.0

(GLOBAL NOTE 国際統計・国別統計専門サイトより作成)

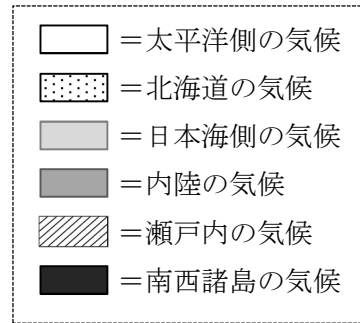
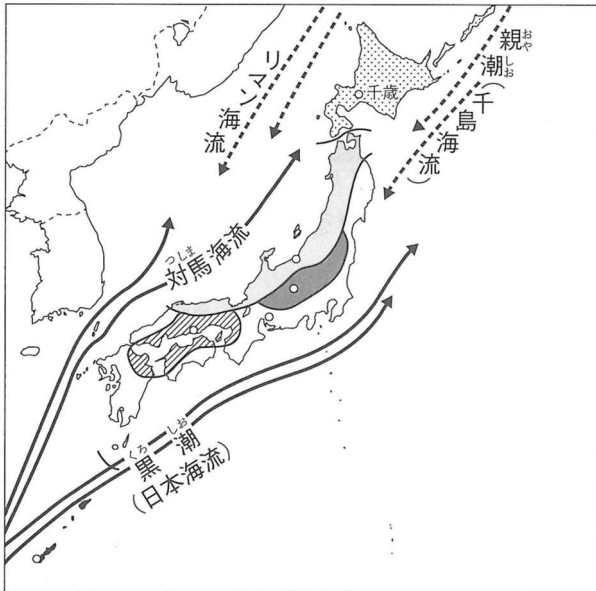
日本とドイツとでは、国土面積はほとんど変わらないが、森林面積は日本の方が < A >。インドの森林面積は日本の3倍近くあるが、国土面積は日本の方が遙か<sup>はる</sup>に < B > ため森林率は日本の方が高い。この3か国の中では、日本は国土面積が決して大きくはないが、森林面積が大きい<sup>はる</sup>ため、最も森林率が < C > ことが分かる。

- ア. A=大きい B=小さい C=高い  
ウ. A=小さい B=小さい C=高い  
オ. A=大きい B=大きい C=高い

- イ. A=大きい B=小さい C=低い  
エ. A=小さい B=小さい C=低い  
カ. A=大きい B=大きい C=低い

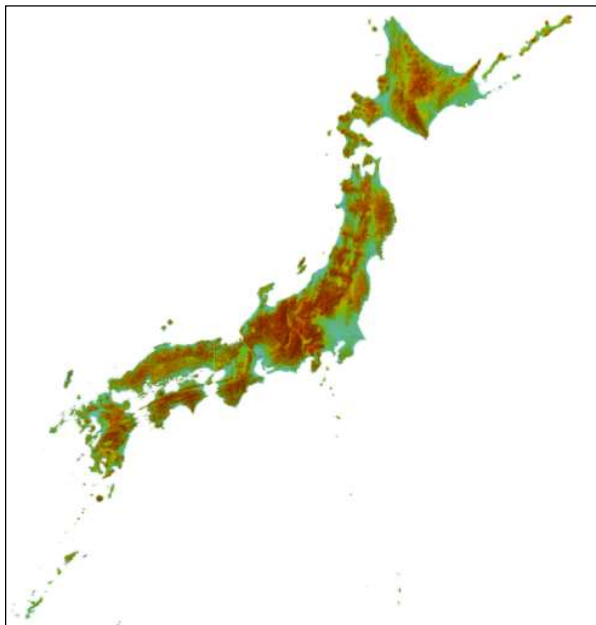
問2 下線②について、木の生育に必要な降水量、気温などの条件は、その種類によって異なります。日本にさまざまな種類の木が生育する理由として、次の**資料1** **資料2**から読み取れるものを下のア～エの中から**すべて選び**、記号で答えなさい。

**資料1** 《日本の気候分布》



(教育開発出版「Key ワーク」より作成)

**資料2** 《日本の地形》



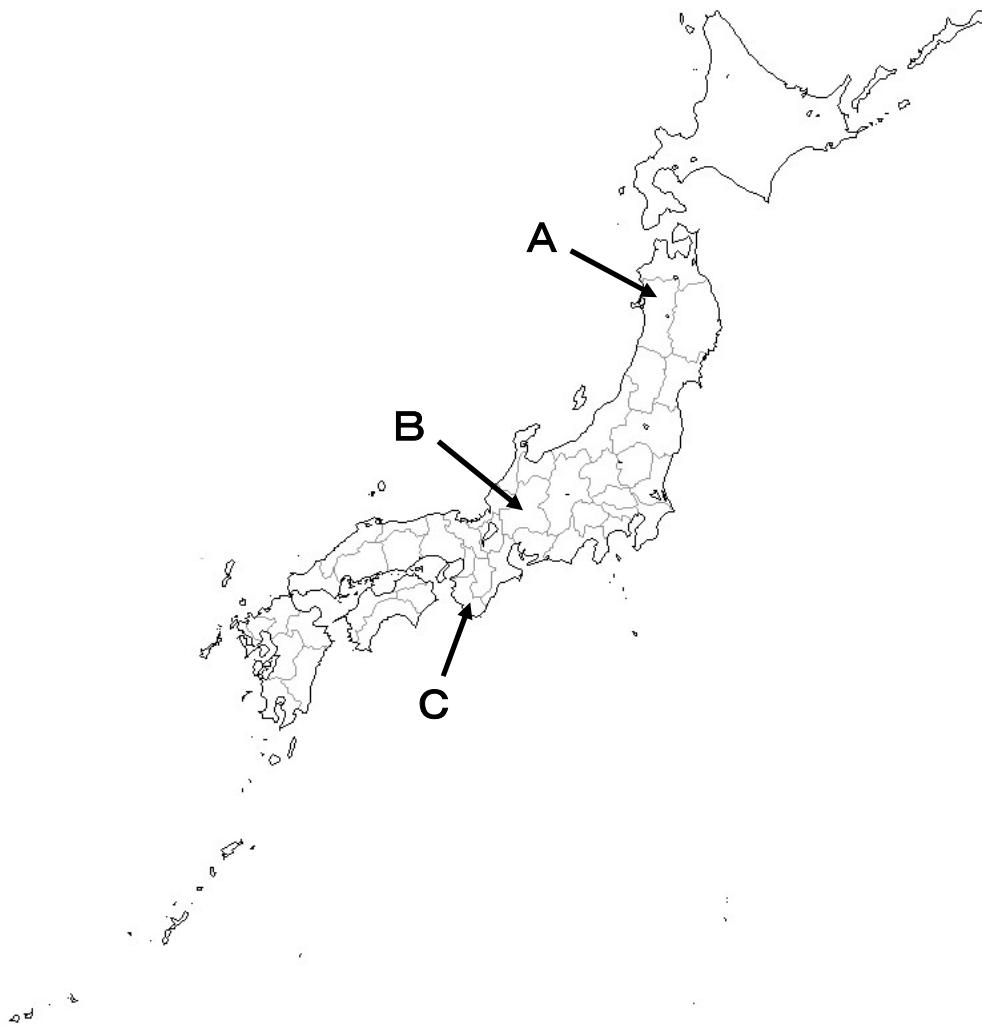
茶色が濃いところは、標高が高いことを示しています。

(国土地理院地図より作成)

- ア. 国土が南北に長く、多様な気候が見られること。
- イ. 国土が暖かい海流に囲まれ、平均気温が高いこと。
- ウ. 地形が山がちで、標高差が大きいこと。
- エ. 地形がなだらかで、低地が多いこと。

問3 下線③について、日本では古くから木材を積極的に活用してきました。次の<1>～<3>は、ある都道府県と木とのかかわりについて説明しています。それぞれが示す都道府県名とその位置の組み合わせとして正しいものを下のア～エの中から選び、記号で答えなさい。

- <1> この県は、本州のほぼ中央に位置し、標高 3000m を超える山岳地を持っています。1300 年以上の歴史を持つ美濃和紙は国の重要無形文化財に指定されています。
- <2> この県は、古くから「紀州・木の国」と呼ばれ、優れた木材を生み出してきました。人口が増加した江戸時代には、近くの大坂などに向けて木材を供給していました。
- <3> この県は、伝統工芸品である曲げわっぱで有名です。これは、湿気を吸収する木の性質を生かし、特殊技法で曲線に曲げて作る器で、日本三大美木の天然スギから作られています。



- |               |            |           |
|---------------|------------|-----------|
| ア. <1> 奈良県、C  | <2> 山形県、A  | <3> 岐阜県、B |
| イ. <1> 岐阜県、B  | <2> 和歌山県、C | <3> 秋田県、A |
| ウ. <1> 和歌山県、C | <2> 秋田県、A  | <3> 長野県、B |
| エ. <1> 長野県、B  | <2> 奈良県、C  | <3> 山形県、A |

問4 下線④について、縄文時代の遺跡からは、人々がさまざまな種類の木をその用途に合わせて用いていたことがわかります。なかでもクリは、水や湿気に強くて腐りにくく、また、割りやすく加工がしやすかったため、さまざまに用いられていたようです。次の写真は、縄文時代における東北地方最大の集落にクリの木で建てられていた大型の建物を復元したものです。

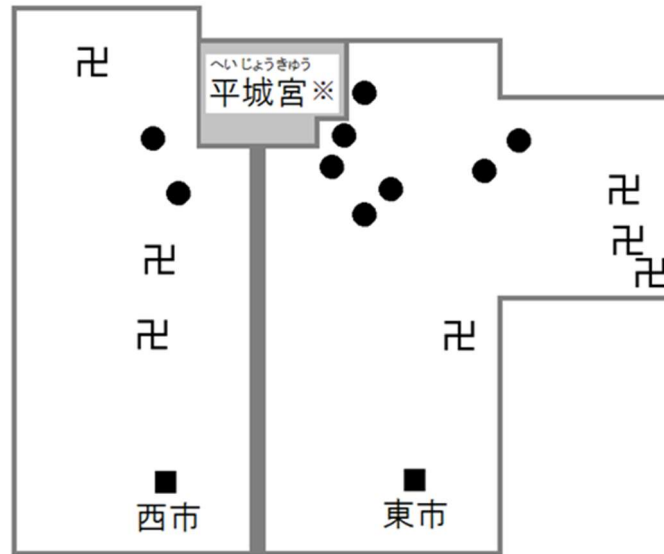


(JOMON ARCHIVES 青森県教育委員会撮影)

- (1) この建物がつくられたのは何という遺跡ですか。名前を答えなさい。
- (2) この集落の跡からは、とくに大きな実をつけるクリの木を選んで集落の周りに植えていたことがわかっています。この集落でクリの木を植えていた理由として考えられることを、下のア～ウの中から一つ選び、記号で答えなさい。
  - ア. 鋤などの農具の材料が多く必要だったから。
  - イ. 質の良い紙の原料として適していたから。
  - ウ. 稲作が始まる前の重要な食料だったから。

問5 下線⑤について、飛鳥時代ころから大きな建造物をつくるが増え、その際に多くの木が用いられました。

- (1) 710年に平城京がつけられた際には、<sup>きゅうてん</sup>宮殿をはじめ都市の建設に多くの木材が必要とされました。次の図は、平城京のようすをあらわしたものです。図からわかる新しい都の特徴と、そのようにした目的の組合せとして正しいものを、下のア～カの中から一つ選び、記号で答えなさい。



※平城宮 … <sup>ざしき</sup>政治や儀式の場、天皇の住まいなどがある。  
● … 皇族や位の高い貴族のやしき。

(奈良文化財研究所「平城京に住まう人びと—貴族と役人の生活—」より作成)

《 特徴 》

- い. 天皇の先祖をまつる神社を、町の中心にすえている。
- ろ. いたるところに市が立ち、商人が多く住んでいる。
- は. 政治を支える役人の住居が、宮殿の周囲に集まっている。

《 目的 》

- に. 天皇に権力を集める目的。
- ほ. 商業取り引きをさかんにする目的。
- へ. 都を訪れる人を増やす目的。

- |         |      |         |      |
|---------|------|---------|------|
| ア. 特徴=い | 目的=に | イ. 特徴=い | 目的=へ |
| ウ. 特徴=ろ | 目的=ほ | エ. 特徴=ろ | 目的=へ |
| オ. 特徴=は | 目的=に | カ. 特徴=は | 目的=ほ |

(2) 次の写真の大仏は、奈良時代に建立された寺院にあります。私たちが見ることのできるこの大仏とそれを納める建物（大仏殿<sup>でん</sup>）は、実は江戸時代につくられたものです。この寺院は何度か建て直され、そのたびに多くの木材が必要とされました。何度も建て直さなければならなかった理由について説明した [ ] の文の < A > < B > にふさわしいことばの組合せとしてあてはまるものを、年表を参考にして下のア～カの中から一つ選び、記号で答えなさい。



年	できごと
743	聖武天皇が、東大寺に大仏をつくることを命じた。
752	大仏の完成を記念する儀式 <sup>ぎしき</sup> がとり行なわれた。
1180	源氏と平氏の戦いのさいに、平重衡 <sup>たいらのしげひら</sup> の軍勢により東大寺の多くの建物が焼かれた。
1185	新しい大仏の完成を記念する儀式がとり行なわれた。
1195	新しい大仏殿の完成を記念する儀式がとり行なわれた。
1567	戦国大名の松永久秀 <sup>まつながひさひで</sup> と三好長慶 <sup>みよしながよし</sup> との戦いのさいに、東大寺の多くの建物が焼かれた。
1692	新しい大仏の完成を記念する儀式がとり行なわれた。・・・現在の <sup>ま</sup> 大仏
1709	新しい大仏殿の完成を記念する儀式がとり行なわれた。・・・現在の <sup>ま</sup> 建物

平安時代の終わりのころから < A > が力を持つようになり、鎌倉時代<sup>かまくら</sup>から戦国時代にかけてひんぱんに < B > ようになったため。

- |                        |              |           |            |
|------------------------|--------------|-----------|------------|
| ア. A = 貴族              | B = 祭りが行なわれる | イ. A = 貴族 | B = 都が移される |
| ウ. A = 武士              | B = 都が移される   | エ. A = 武士 | B = 戦乱が起こる |
| オ. A = 僧 <sup>そう</sup> | B = 祭りが行なわれる | カ. A = 僧  | B = 戦乱が起こる |

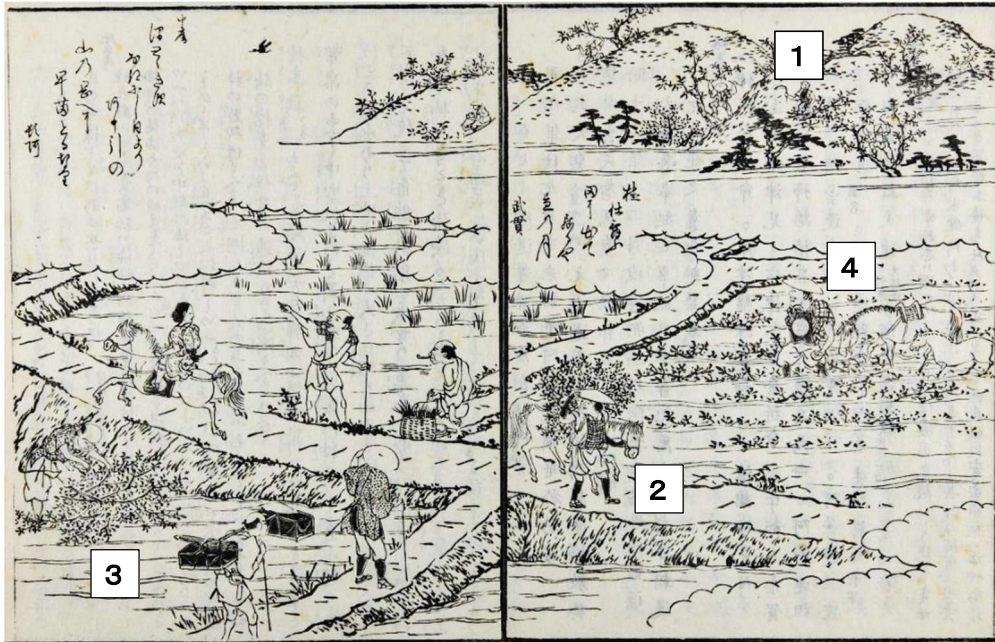
[II]

時代がくだるにつれて①木の用途が広がり使用量も増えたため、各地で森林が伐採されて森林面積は減少していきました。戦国時代にはその影響がさまざまな形であらわれるようになり、②戦国大名たちは対策に乗り出さねばなりませんでした。

その後、さまざまな場面で木に代わる素材が用いられるようになると、森林の面積は再び増えていきました。そうしたなか、近年では、③木の持つ性質が見直され、新たな役割が期待されています。

問6 下線①について、問いに答えなさい。

- (1) 鎌倉時代ころには、やわらかい葉が伸びた細い枝を刈りとって使うようになりました。次の資料は、そのようすを①から④までの順番で表したものです。養分の豊富なこの枝は何に用いられたと考えられますか。下のア～ウの中から一つ選び、記号で答えなさい。



『善光寺道名所図会 卷之一』

- ア. 布などの染料      イ. 家畜のえさ      ウ. 田畑の肥料

- (2) 塩や鉄をつくる仕事が増えると、そこでも木は用いられ、伐られる木の量も増えていきました。次の文は、それぞれ塩と鉄の作り方を説明したものです。2つの文から読み取れる木の使い方として**あてはまらないもの**を下のア～ウの中から一つ選び、記号で答えなさい。

《 塩の作り方 》  
海水を煮つめ、水分を蒸発させて取り出す。

《 鉄の作り方 》  
砂鉄と木炭を燃焼させ、不純物を取り除いて作り出す。

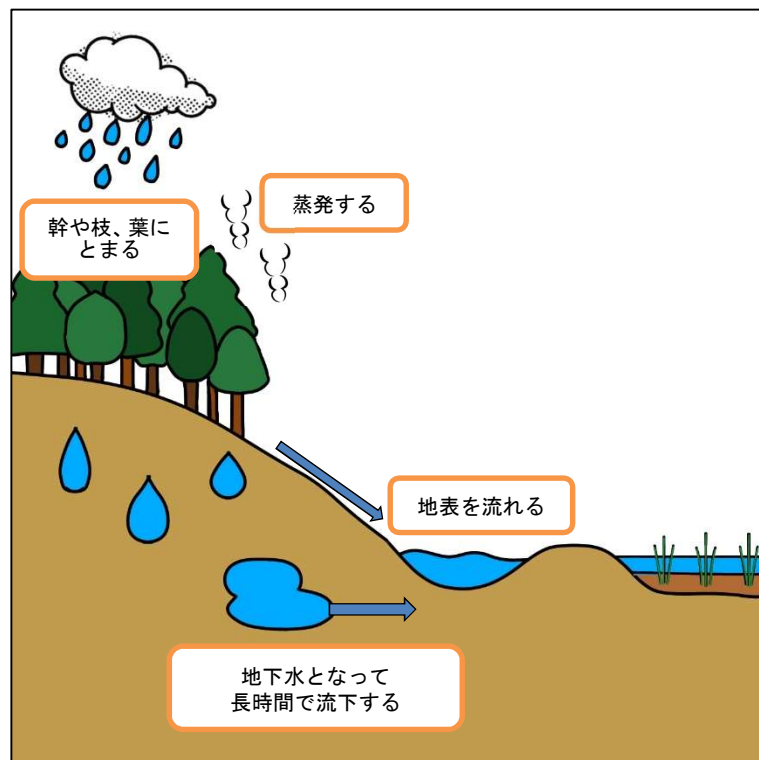
- ア. 工業原料      イ. 香料      ウ. 燃料



- (3) 室町時代のある村に住む人々は、村人どうしの間で「苗木を取ったり、木や葉を勝手に切ったりしてはいけない」という決まりをつくり守っていました。その目的として考えられることを下のア～ウの中から一つ選び、記号で答えなさい。
- ア. 労働の疲れを癒すことができるよう、緑の豊かな里山の美しい景色を保つため。
  - イ. 木を活用し続けることができるよう、木の育つ年月を考えて植え、使うため。
  - ウ. 戦乱の際に巻きこまれないよう、逃げ込み隠れる森林を確保するため。

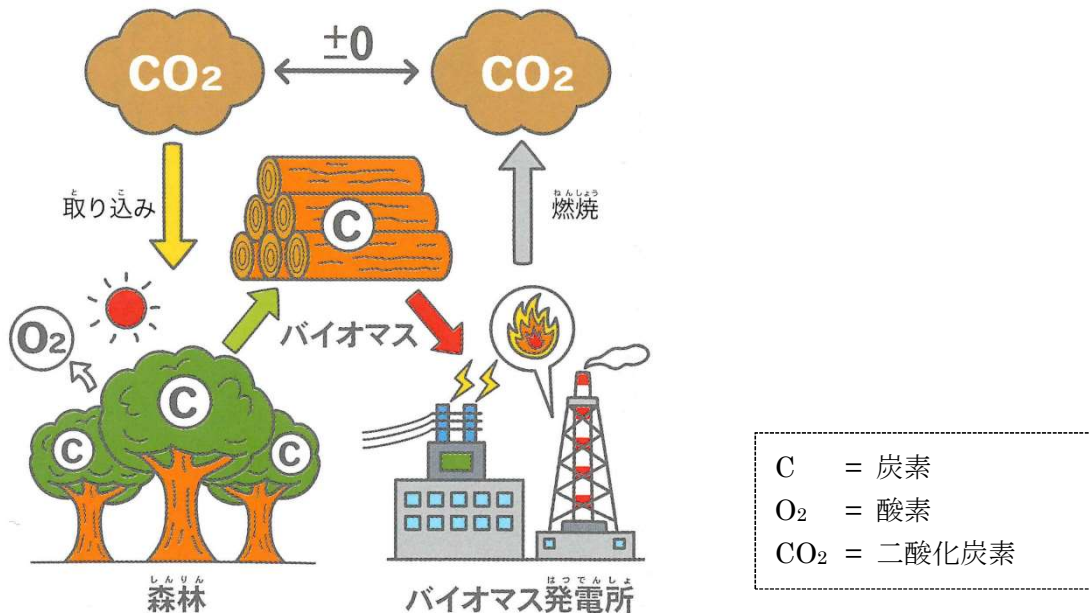
問7 下線②について、戦国時代には多くの大名が、平地で水田を切りひらき堤防を築くとともに、木が伐り出され少なくなってしまう山にスギやヒノキなどの針葉樹を植えるという事業を行なっています。「水田」と「山に木を植える」こと、また、「堤防を築く」と「山に木を植える」ことは、つながりのある政策です。どのようなつながりがあるのか、森林のはたらきを表した下の図を参考にして説明しなさい。

《 森林に降った雨水のゆくえ 》



(神奈川県HPより作成)

問8 下線③について、近年、木質バイオマスを使ったエネルギーが注目されています。木質バイオマスとは、木製品の形を整える時などにできる切れはしや、家を壊した時に出る廃木材などからつくられる資源のことをいいます。次の図を見て、木質バイオマスを使ったエネルギーのメリットとしてあてはまるものを、下のア～ウから選び、記号で答えなさい。



(「見てわかる！エネルギー革命」一般財団法人 エネルギー総合工学研究所)

- ア. 太陽光を用いることで火を使わずに発電できる。
- イ. 大気中の二酸化炭素の量を増やさずに発電できる。
- ウ. 他のエネルギーと比べて安く発電できる。

問9 日本における木の活用を通して、私たちがどのように木に親しみ木の文化を育んできたのかをみてきました。木の文化を守ることは、それを生み出した自然環境を守ることに繋がります。では、自然環境を守ることで、変化する時代の中で木の文化に何をもたらすことができますか。< >にあてはまることばや文を答えなさい。

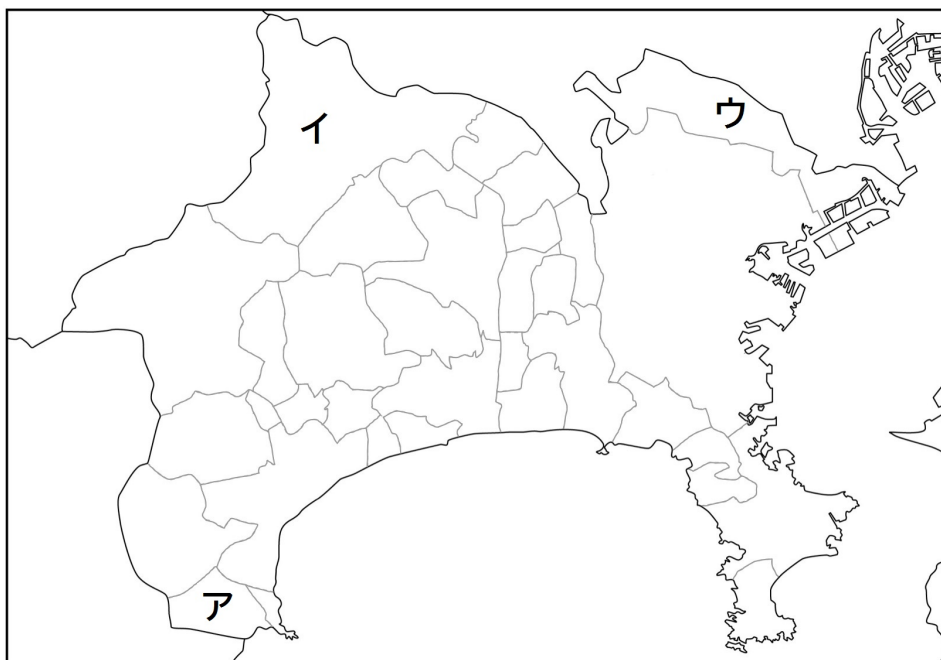


2 神奈川県湯河原町に関する文を読んで、あとの問いに答えなさい。

みなさんは、①湯河原町に行ったことがありますか。神奈川県有数の温泉地として古くから栄えてきました。湯河原という地名は江戸時代から確認することができ、共同で温泉を管理していた記録が残っています。②明治時代に入ると地租改正により国有地となる温泉も多かったなか、この地域では村で協力して管理するしくみを守りました。③日清戦争・日露戦争の負傷者の受け入れ先となると、湯河原温泉の名前が全国的に広まり、観光客も増加していきました。しかし、大正時代の④大地震により村の住居や田畑がとて大きな被害を受けました。当時の人々が、その後の復興として力を入れたのが、⑤みかん栽培と観光業です。観光業は⑥第二次世界大戦のころに苦しい状況に置かれますが、戦争が終わると再び活気を取り戻し、⑦昭和の高度経済成長期には国民の生活の向上により旅行がさかんになり、とても栄えました。

近年の湯河原町は⑧新たな課題に直面しており、⑨温泉を活用した町おこしに力を入れています。⑩温泉を活用した町おこしは、他の地方自治体でも行なわれています。その土地その土地にはそれぞれの課題があり、さまざまな地方自治体が、未来につながる町づくりをしていこうと、その土地の特徴を活かしながら、それぞれの課題と向き合っています。

問1 下線①について、湯河原町は隣接する静岡県熱海市とともに古くから温泉地として知られています。湯河原町の位置を下の地図のア～ウの中から一つ選び、記号で答えなさい。



問2 下線②について、このころ政府は外国に負けない強い国を作ろうと、富国強兵政策を行ないました。この政策の内容としてあてはまらないものを下のア～ウの中から一つ選び、記号で答えなさい。

- ア. 徴兵令      イ. 殖産興業      ウ. 楽市楽座

問3 下線③について、次のア～ウの人物はそれぞれ大正時代から昭和時代のあいだに湯河原に<sup>しゅくはく</sup>宿泊したことがある人物です。日露戦争で日本の海軍を指揮しロシアの<sup>かんたい</sup>艦隊を破った人物を一人選び、記号で答えなさい。

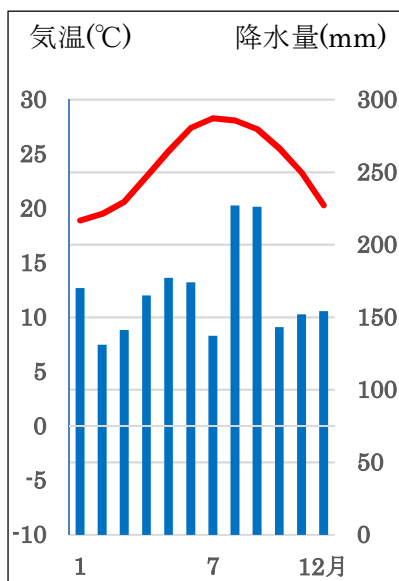
ア. <sup>とうごうへいはちろう</sup>東郷平八郎      イ. <sup>なつめ そうせき</sup>夏目漱石      ウ. <sup>よきのあきこ</sup>与謝野晶子

問4 下線④について、昨年はこの地震が起きてからちょうど100年で、地震が起きた9月を中心にひんぱんにニュースに取り上げられました。この地震は何と呼ばれていますか。答えなさい。

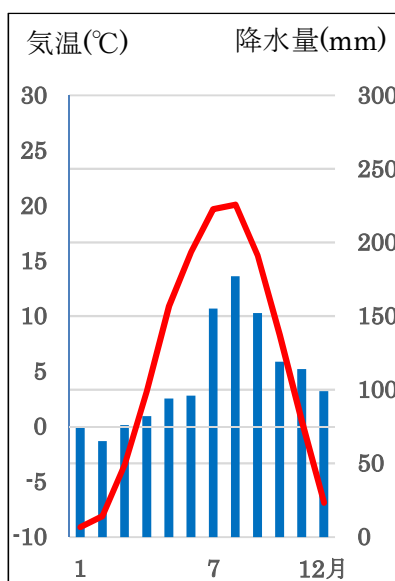
問5 下線⑤について、湯河原町周辺はみかん栽培にとっても適した気候で、現在でも主な農作物であり、観光資源にもなっています。次はみかんの生育に適した環境についての文です。これを参考にして、湯河原町の雨温図を下のア～ウの中から一つ選び、記号で答えなさい。

みかんの生育に適した環境：年平均気温が15℃～17℃で、  
最低気温が－5℃以下にならない場所。

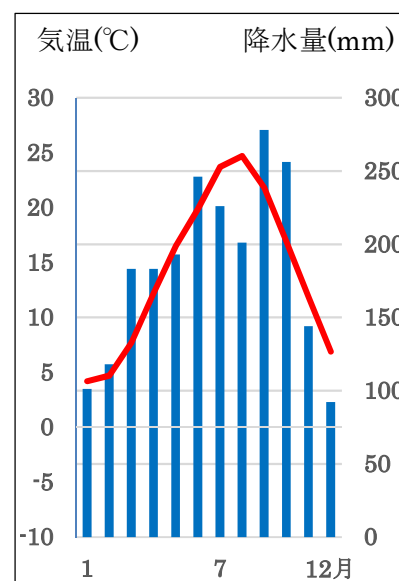
ア.



イ.



ウ.



(Climate-Data.org より作成)

問6 下線⑥について、この時期には温泉も戦争に利用されました。次の資料はそのようすを記した当時の文章を、やさしいことばに直したものです。この文から読み取れる温泉の戦争への利用の目的を下のア～ウの中から一つ選び、記号で答えなさい。

温泉も『療養<sup>りょうよう</sup>より厚生へ』を目指して経営するべき時代…（中略）…少数の病者をいやすことよりも、国民全体の健康を保ち、体位を向上させて、未然に病気の患者<sup>かんじや</sup>を防ぐことの方が国家としてとても意義あること…（中略）…その重大な役割を果たすために、温泉ほど自然にして快適なるものはない。

いしかわみちお  
（石川理夫『温泉の日本史』より一部改変）

- ア. 戦地で負傷した兵を休ませること。
- イ. 国民の健康を保ち戦争に備えさせること。
- ウ. 温泉の熱を軍の工場の発電に利用すること。

問7 下線⑦について、この時期に豊かさの象徴として国民に普及<sup>ふきゅう</sup>したのが、新三種の神器と呼ばれた三つの製品です。このうち、湯河原温泉の観光客数の増加に最も影響<sup>あたら</sup>を与えているものを下のア～ウの中から一つ選び、記号で答えなさい。

- ア. カラーテレビ
- イ. クーラー
- ウ. カー（車）

問 8 下線⑧について、**資料 1** は湯河原町の主な産業で働く人の数、**資料 2** は過去 10 年間の湯河原町の観光客数、**資料 3** は 2015 年の新聞記事です。3 つの資料から読み取れる湯河原町の課題についてまとめた   の文について、< A >～< C > にあてはまることばを答えなさい。

**資料 1**

産業	人口 (人)
農業・林業	298
漁業	12
建設業	876
製造業	734
飲食店・宿泊業	1,753
医療・福祉	1,664
その他	5,217

(令和 2 年国勢調査より作成)

**資料 2**

年	数 (千人)	年	数 (千人)
2012 年	4,072	2017 年	3,309
2013 年	3,943	2018 年	3,647
2014 年	3,634	2019 年	4,096
2015 年	3,109	2020 年	3,602
2016 年	3,421	2021 年	3,499

(湯河原町統計要覧 令和 5 年版より作成)

**資料 3**

箱根山 (神奈川県) の大涌谷でごく小規模な噴火があつてから 7 日で 1 週間がたち、箱根町の観光業への打撃が広がっている。… (中略) …箱根強羅観光協会に正午すぎ、「温泉は出ますか」と電話がかかった。火山活動の影響で、大涌谷からの温泉供給量が減ったと聞いた人からだ。箱根強羅温泉旅館組合の旅館・ホテル三十数軒のうち、過半数は大涌谷以外の温泉を使うので影響はなく、他も「量はやや減っても変わらず出ている」という。自家源泉の旅館の支配人は「うちはお湯は出ている。ただ、お客さんが来ないだけだ。7、8月の予約もほとんどない」。… (中略) …

(朝日新聞 2015 年 7 月 8 日朝刊より一部改変)

現在、湯河原町で働いている人がもっとも多い産業は、< A > 業である。しかし、観光客はこの 10 年間で < B >。これらのことから、現在、町の主要な産業の将来が心配されている。加えて、2015 年には隣接する箱根町で起こった < C > の影響によって、また 2020 年には新型コロナウイルス感染症の影響によって、観光客数が大きく < B >。このように、湯河原町には温泉という自然の恵みを受けているからこそその苦労もある。

問9 下線⑨について、湯河原町は都市公園法に基づいて地域住民、行政、民間企業<sup>きぎょう</sup>が協力し、温泉街の中心にある万葉公園の再整備を行ない新しい温泉施設<sup>しせつ</sup>をつくりました。資料1は、この公園を整備した理由を説明したもの、資料2は公園内の施設をまとめたもの、資料3はこの公園でこれまで行なわれたイベントです。

**資料1**

湯河原<sup>そうゆ</sup>惣湯のストーリー

中世、この土地は武士や村人の湯治場<sup>とうじ</sup>として利用されていました。江戸時代になると「湯ヶ川原」の地名が登場し「湯河原温泉」と呼ばれるようになります。村人は河原から自然湧出<sup>ゆうしゅつ</sup>する温泉の共同湯坪<sup>きゆうどうつぼ</sup>を「村湯」「惣湯」と呼び、地域の共同湯として大切に管理しました。…(中略)…かつて村人が地域の共有資産として守り育ててきた「惣湯」。その精神と文化を受け継ぎ、地域の人々とともに、湯河原の魅力<sup>みりょく</sup>を感じられる場所に育てていきます。

(湯河原惣湯HPより一部改変)

**資料2**

惣湯テラス (有料)	玄関 <sup>げんかん</sup> テラス (入場無料)	その他
温泉・サウナ 食事処 <sup>じこころ</sup> ・休憩所 <sup>きゅうけい</sup> 図書室	カフェ・仕事スペース 観光案内・貸会議室 図書室	熊野神社・狸福 <sup>りふく</sup> 神社 足湯 川沿いの散歩道とベンチ

**資料3**

- ・地域のお店と協力して定期的に市場をひらく。
- ・ヨガや座禅<sup>ざぜん</sup>と温泉を組み合わせた企画を行なう。
- ・8月5日～20日にかけて、小さなお祭りを毎日開く。

(1) 湯河原町は都市公園法に基づいて、町の実情に合わせた湯河原町都市公園条例を制定しています。町の実情に合わせて条例を制定することができる機関を下のア～ウから選び、記号で答えなさい。

ア. 町役場                      イ. 町議会                      エ. 町長

(2) この公園の特徴を述べたものとして**あてはまらないもの**を下のア～ウの中から一つ選び、記号で答えなさい。

- ア. 国内からの観光客よりも、外国からの観光客を呼び込むことを重視している。
- イ. 観光客だけでなく、地域の住民にも良い点があるように設計されている。
- ウ. 湯河原に住む人たちが古くから引き継いできたものを活用しようとしている。

問 10 下線⑩について、温泉を資源に町おこしを行なって成功した自治体に、福島県福島市の土湯温泉と兵庫県豊岡市の城崎温泉があります。次の資料はその取り組みをまとめたものです。各自治体の取り組みの特徴としてあてはまるものを下のア～ウの中から一つずつ選び、それぞれ記号で答えなさい。

《 土湯温泉 》

バイナリー発電という、温泉の冷却によって生じた蒸気を利用する再生可能エネルギー発電を始めた。再生可能エネルギーを学ぶ旅行を企画したり、温泉熱を活用したエビ養殖を行なったりし、観光業に活用している。

《 城崎温泉 》

地域にある全ての共同温泉で、入れ墨のある人も受け入れるようにした。また、インターネットから英語で旅館を予約できるようにするなど、外国人観光客が旅行しやすい環境を整えている。SNSを通じて国外への広報活動を積極的に行なっている。

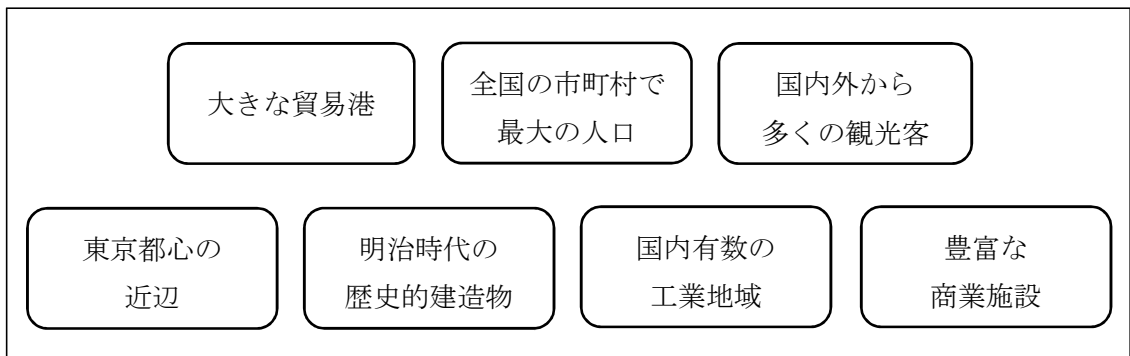
- ア. 最先端の科学技術を用いて町おこしを行なっている。
- イ. 地域の魅力を国外に発信することで町おこしを行なっている。
- ウ. 国から指定された方法で町おこしを行なっている。



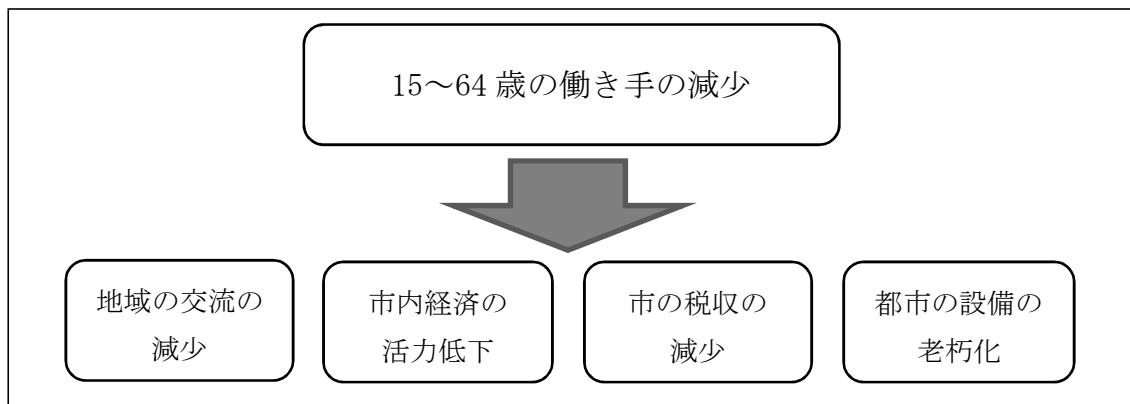
問 11 湯河原、土湯、城崎の3つの温泉地の町おこしは、それぞれ温泉を利用しているという点は共通していますが、その方法には違いがあります。このように、地域の課題解決には、その土地のもつ良さや背景に合わせて、適切な方法を選んでいかななくてはなりません。

**資料1**は横浜市の特徴、**資料2**は横浜市の課題をまとめたものです。**資料2**の課題を解決するために、あなたが最も重要だと考えることは何ですか。下のア～エの中から一つ選び、選んだ理由を具体的に説明しなさい。エを選んだ場合は、自分の考える最も大事なことと、その理由を説明してください。

**資料1** 《 横浜市の特徴 》



**資料2** 《 横浜市課題 》



(「横浜市中期計画 2022～2025」より作成)

- ア. 地域の住民が引き継いできたものを活かす。
- イ. 最先端の技術を活用する。
- ウ. 地域の魅力を国外に発信する。
- エ. その他。